

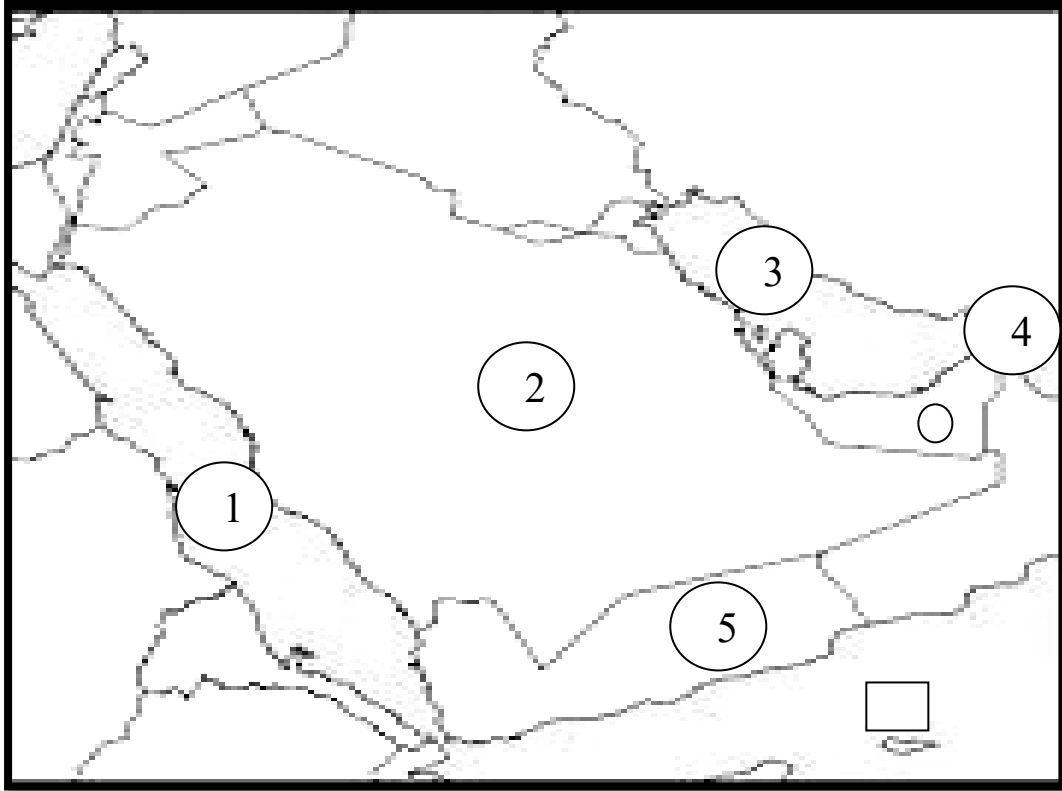
العام الدراسي: 2019-2020م
الزمن : ساعة وربع
عدد الأوراق : 5

امتحان الفصل الدراسي الأول
الصف : الخامس
المادة : بلادي الكويت
(نموذج اجابه)

وزارة التربية
الإدارة العامة للتعليم الخاص
التوجيه الفني للاجتماعيات

السؤال الأول : يتكون من أ- ب

أ- أمامك خريطة شبه الجزيرة العربية الصماء نفذ عليها مايلي :- ص 24



1- أكتب مدلول الأرقام التالية :- (4 درجات)

- (3) - الخليج العربي يمثله علي الخريطة الرقم
- (2) - المملكة العربية السعودية تحمل رقم
- (1) - البحر الأحمر يمثله الرقم
- (4) - مضيق هرمز يمثله الرقم

2- حدد على الخريطة مايلي (درجتان)

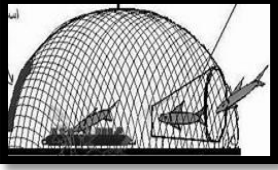
- بحر العرب
- الإمارات العربية المتحدة

ب- صنف الموارد التالية حسب الجدول الذي أمامك :- ص 38 (6 درجات)
(نباتات - ماء - غاز طبيعي - أسماك - نفط - رياح)

موارد غير حيه	موارد حيه
ماء - غاز طبيعي - نفط - رياح	نباتات - اسماك

السؤال الثاني :- يتكون من (أ – ب) (6 درجات لكل سؤال درجه) :-
أ- أكمل العبارات التالية في العبارات التي أمامك :

- 1- أداة تحول حركة الرياح إلى طاقة تسمى ----دوارة الرياح ----- ص 76
- 2- يعتبر أكثر أنواع الطاقة استخداما في دولة الكويت يسمى ----الغاز الطبيعي ص 78
- 3- تغطي المياه سطح الكرة الأرضية بنسبة ---- 70 % ----- ص 17
- 4- تقع دولة الكويت بالنسبة لشبه الجزيرة العربية في جهة ----الشمال الشرقي ص 23
- 5- النبات الذي ينمو دون تدخل الإنسان يسمى --- النبات الطبيعي -- ص 42
- 6- الصورة التي أمامك تمثل نوع من أنواع صيد الأسماك قديما في الكويت يسمى -القرقور- ص 53



ب - ظلل الحرف (أ) إذا كانت العبارة صحيحة وظلل (ب) إذا كانت العبارة خاطئة
(6 درجات لكل سؤال درجه)

(ب)	(أ)	العبارة
	////	1- حرصت الكويت على إقامة ثلاث محطات لتوليد الكهرباء هي الرياح والشمس في منطقة الشقيا ص 80
	/////	2- الميناء الذي تم من خلاله تصدير أول شحنة نפט كويتي يسمى الأحمدى ص 59
	/////	3- الموقع ● في الخريطة التي أمامك تشير إلى منطقة الوفرة ص 51
	/////	4- تبلغ نسبة احتياطي النفط الكويتي بالنسبة لاحتياطي العالم 10%
	////	5- تقع بلادي الكويت في جنوب شرق العالم الإسلامي ص 30
	/////	6- العالم الاسلامي مجموعه من الدول التي يكون فيها عدد المسلمين 50% فأكثر ص 30

السؤال الثالث :- (ويتكون من أ – ب :-)
أ- قارن بين كل من وذلك في الجدول الذي أمامك : - (4درجات)

أوجه المقارنة	النبات الحولي (الموسمية) ص42	النبات المعمرة (الدائمة) ص42
التعريف	نباتات تنمو طول العام وجذورها عميقة تساعدها علي الاستفادة من الماء	هي حشائش تنبت بعد سقوط الأمطار وتموت بسرعة
أنواعها يكتفى بنوع لكل نبات	العرفج – الرمث	الربلة – الخزامى

ب- لاحظ الصور التي أمامك ثم أجب عما يليها :- (4درجات لكل سؤال درجة)



1- ما اسم الوزارة التي تحمل الشعار الذي أمامك ؟ (درجة)
----- وزارة الكهرباء والماء ----- ص 64

2- اكتب طريقه تقترحها لترشيد الاستهلاك بالصورة المقابلة؟ (درجة)
(مايراه المصحح مناسباً)



1- ما اسم حاكم الكويت في الصورة المقابلة ؟

----- الشيخ أحمد الجابر الصباح ----- ص 59

2- في أي عام اكتشف حقل بحره ؟

----- 1936م ----- ص 59

السؤال الرابع :- ويتكون من (أ – ب) :-

أ- علل لما يلي :- (4 درجات)

- 1- تسمية النفط بالذهب الأسود 0 ص 55 (درجه)
 - لأهميته وقيمته الكبيرة 0
- 2- اعتماد دولة الكويت على الأسماك كغذاء رئيسي في الدولة 0 ص 53 (درجتان) يكتفى بنقطتان
 - بسبب وفرة الأسماك في مياه الخليج العربي - وجودة أنواعها
 - موقع الكويت على ساحل الخليج العربي - فقر البيئة الصحراوية
- 3- تسمية دول الخليج العربية بهذا الاسم 0 (درجه) ص 23
 - لأنها تطل على مسطح مائي يسمى الخليج العربي

ب- أكتب ما تعرفه عن :-

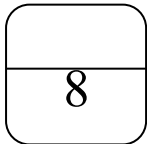
1- جهود الدولة في المحافظة على النبات الطبيعي ص 45 (درجه) يكتفى بنقطة

- إنشاء المحميات الطبيعية مثل محمية الشيخ صباح الأحمد الطبيعية
- سن القوانين لمنع إتلاف وتدمير وقطع النبات الطبيعي
- تحديد مواسم التخيم في فصل الربيع

2- خصائص الحيوانات البرية في دولة الكويت ص 48 (درجتان) يكتفى بنقطتين

مقاومة الجفاف – وتخزين الماء - تلون غطاء أجسامها

- 3- مميزات الطاقة المتجددة ص 73 (درجه) يكتفى بنقطة
غير ملوثة للبيئة – متواجدة بشكل دائم – اقتصاديه – بديلة عن الطاقة غير المتجددة)



انتهت الأسئلة

مع اطيب التمنيات بالنجاح والتوفيق 0000